



# Geometrijski liki in telesa

## Večkotniki



a) Pobarvajmo like v kalejdoskopu, kot jih vidi otrok na sliki: trikotnike zeleno, štirikotnike modro in petkotnike rdeče.

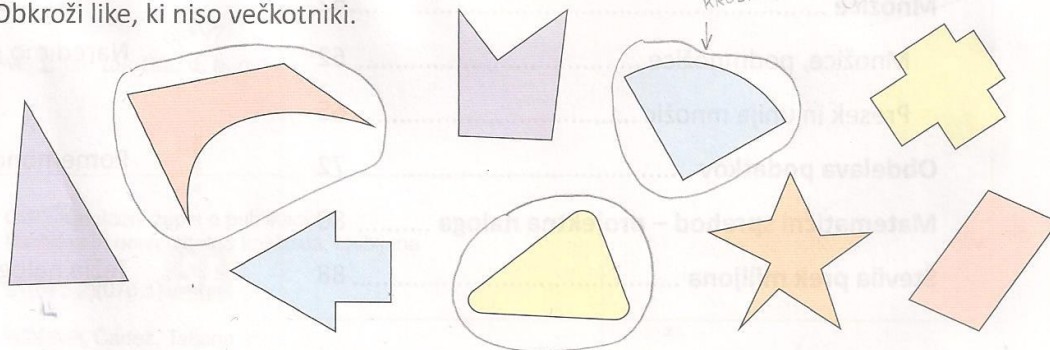
b) Opišimo kvadrat in pravokotnik.

c) Kaj omejuje večkotnike? Obkrožimo in pojasnimo odgovor.

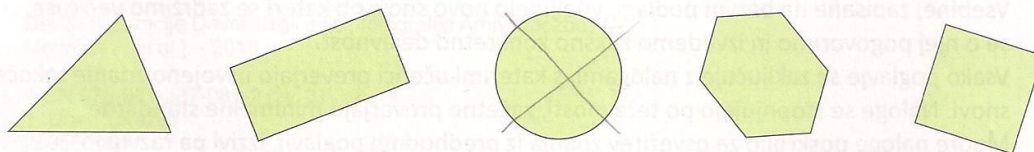
(A) Sklenjena kriva črta. (B) Nesklenjena lomljena črta. (C) Sklenjena lomljena črta.

*Stranica večkotnika mora biti daljica - lomljenka.*

1. Obkroži like, ki niso večkotniki.



2. Najdi vsiljivca in ga prečrtaj.




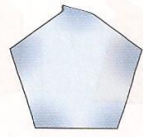



Odločitev pojasni.

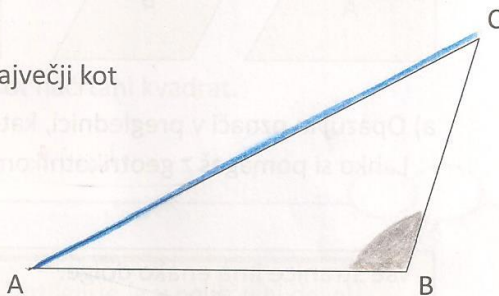
*Krog nima kotov, ga ne obdaja sklenjena lomljena črta.*

3. Dopolni preglednico.

*Umeji ga leva sklenjena čista.*

					
Št. stranic	3	0	4	5	4
Št. oglišč	3	0	4	5	4
Št. kotov	3	0	4	5	4

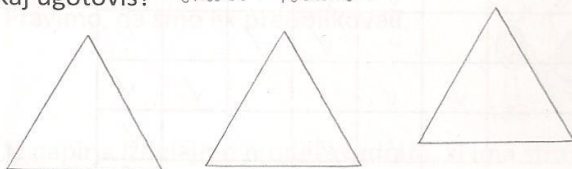
4. V trikotniku, ki ima oglišča A, B in C, pobarvaj največji kot in prevleci najdaljšo stranico.



5. S šablono nariši tri skladne trikotnike. Na oko primerjaj dolžine stranic in velikosti kotov vseh treh trikotnikov.



Kaj ugotoviš? *Enako veliki.*



6. Iz paličic (modelov stranic) in plastelinskih kroglic (modelov oglišč) izdelaj modele trikotnikov, štirikotnikov, petkotnikov ...



a) Koliko plastelinskih kroglic potrebuješ za izdelavo modela šestkotnika? *6*  
Kolikokrat več kot za trikotnik? *2 krat*

b) Kako imenujemo večkotnik, za katerega potrebuješ sedem paličic in sedem plastelinskih kroglic? *Sedemkotnik!*

c) Najmanj koliko paličic in plastelinskih kroglic potrebuješ za model trikotnika? *3*

č) Ali bi lahko izdelal trikotnik iz paličic, ki so dolge 3 cm, 5 cm in 8 cm? *Ne.*

## SLJ – Vitan MaI SREČA NA VRVICI

sreča na vrvici: nekaj, kar te osrečuje....ker je nekaj lepega na vrvici, se ti lahko izmuzne iz rok...

Odgovori:

1. Ali lahko iz teh drobcev uganeš, kaj se je dogajalo?  
Uganem lahko, da nekdo išče primernege igralca za film.
2. Kaj je bilo najprej? In kaj potem? In kaj na koncu?  
Matic je bil najprej presenečen, ko ga je tip opazoval, potem je že fantaziral, kaj vse bi lahko naredil z denarjem, ki bi ga dobil, če bi igral v filmu, na koncu je pa bil zaskrbljen, ker je zamudil domov.
3. Lahko iz odlomka ugotoviš, kdo je glavni junak?  
Glavni junak je Matic.
4. Zakaj je Matic tako hitro privolil, da bo igral v filmu?  
Hitro je privolil, ker bi postal slaven, rešil bi se bedastih iger z Bliskom in še denar bi zaslužil, s katerim bi si kupil kolo.
5. Česa se je Matic ustrašil ob koncu odlomka?  
Ustrašil se je, ker se je spomnil, da zamuja domov in da ni kupil mleka in paradižnika.
6. Razloži besedno zvezo »orka špinača«!  
Ojoj, o groza, .....
7. Kako bi ti ravnal, če bi bil v Matičevi vlogi?  
...